



Kindergarten/Unterstufe

Name: _____

Mehr oder weniger?



Aufgabe 1



Zähle die Znüni. Schreibe die Anzahl auf.



Aufgabe 2



Wo sind es mehr? Kreise ein.



Beispiel



| | |
|--|--|
|  5 |  6 |
|--|--|

| | |
|---|--|
|  |  |
| <input type="radio"/> | <input type="radio"/> |

| | |
|---|---|
|  |  |
| <input type="radio"/> | <input type="radio"/> |

| | |
|--|---|
|  |  |
| <input type="radio"/> | <input type="radio"/> |

| | |
|---|---|
|  |  |
| <input type="radio"/> | <input type="radio"/> |

| | |
|--|---|
|  |  |
| <input type="radio"/> | <input type="radio"/> |



Kindergarten/Unterstufe

Name: _____

Mehr oder weniger?


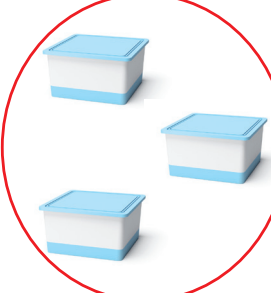
Aufgabe 3



Zähle die Milchprodukte. Schreibe die Anzahl auf.



Aufgabe 4



Wo sind weniger? Kreise ein.



Beispiel



| | |
|--|--|
|  |  |
| 4 | 3 |

| | |
|---|--|
|  |  |
| <input type="text"/> | <input type="text"/> |

| | |
|---|---|
|  |  |
| <input type="text"/> | <input type="text"/> |

| | |
|--|---|
|  |  |
| <input type="text"/> | <input type="text"/> |

| | |
|---|---|
|  |  |
| <input type="text"/> | <input type="text"/> |

| | |
|--|---|
|  |  |
| <input type="text"/> | <input type="text"/> |



Lösung

Mehr oder weniger?

Aufgaben 1 und 2

Beispiel

| | | | |
|---|--|---|--|
|  <p>5</p> |  <p>6</p> |  <p>4</p> |  <p>5</p> |
|  <p>9</p> |  <p>7</p> |  <p>3</p> |  <p>2</p> |
|  <p>10</p> |  <p>8</p> |  <p>7</p> |  <p>8</p> |



Lösung

Mehr oder weniger?

Aufgaben 3 und 4

Beispiel

